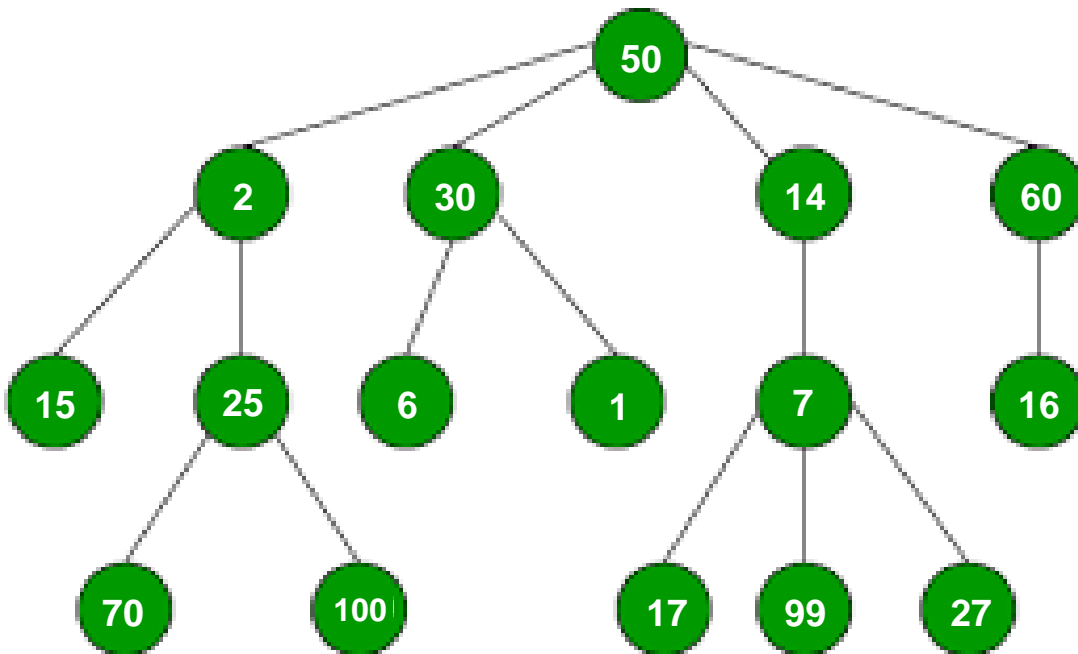


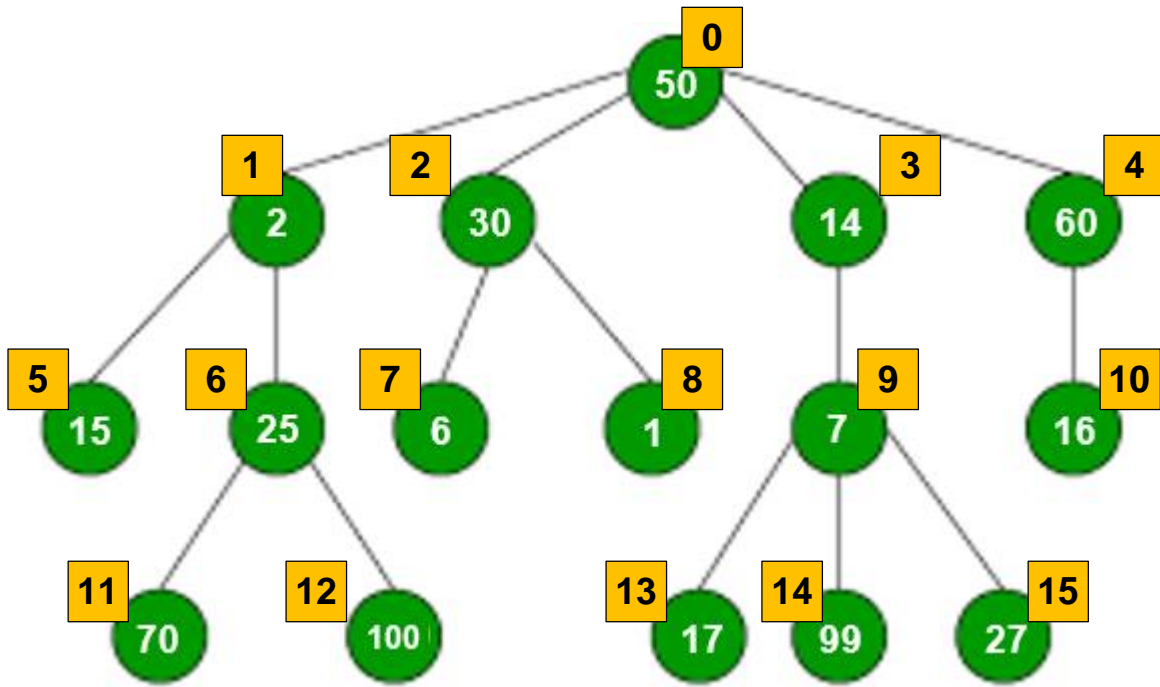
Dado el Siguiete Árbol



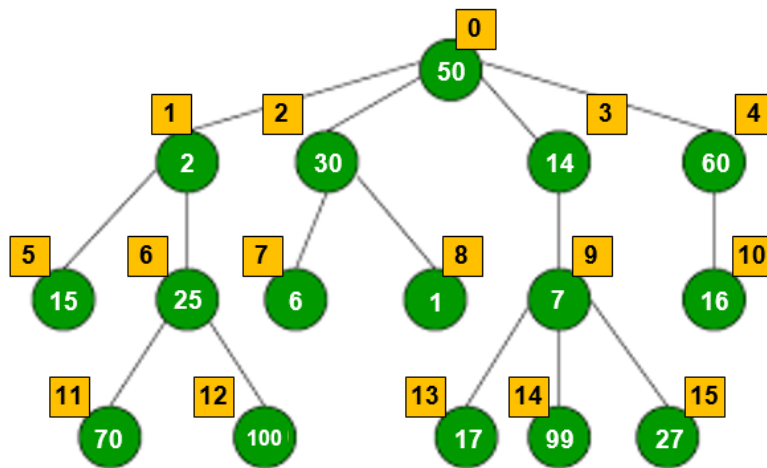
1. Indique las posiciones al hacer recorrido por niveles.
2. Elabore la tabla que muestre la REPRESENTACIÓN ESTÁTICA DE HIJO-IZQUIERDO / HERMANO DERECHO
3. Muestre el esquema equivalente para la REPRESENTACIÓN DINÁMICA DE HIJO-IZQUIERDO / HERMANO DERECHO

SOLUCIÓN

1. Indique las posiciones al hacer recorrido por niveles.



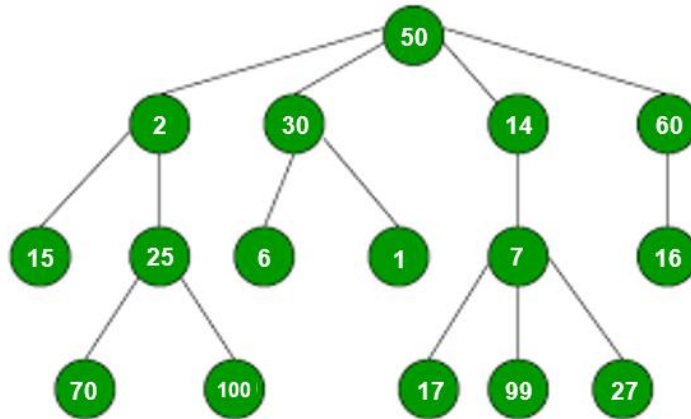
2. Elabore la tabla que muestre la REPRESENTACIÓN ESTÁTICA DE HIJO-IZQUIERDO / HERMANO DERECHO



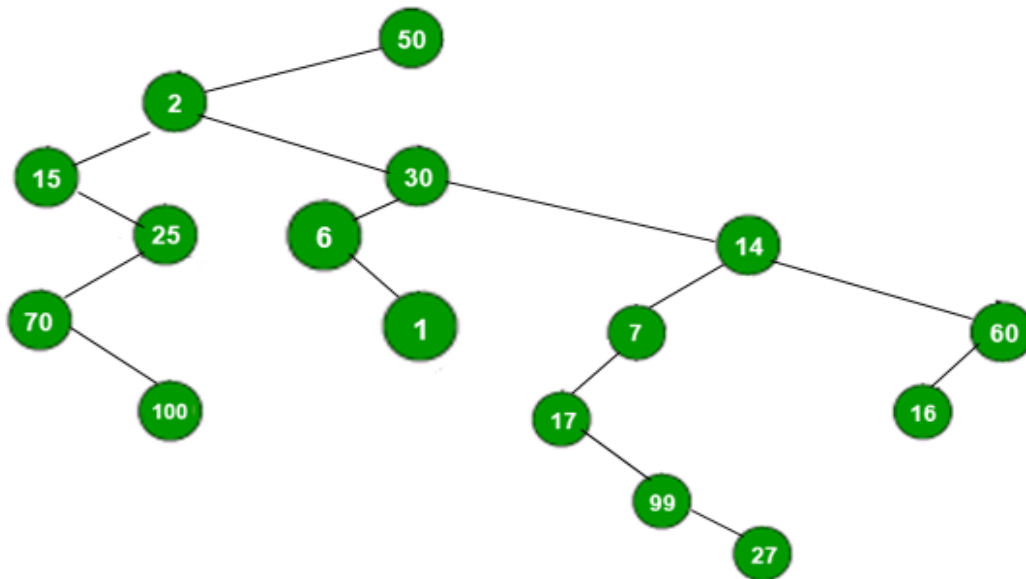
(ÍNDICE) NODO HIJO IZQ	INDICE	VALOR	(ÍNDICE) NODO PADRE	(ÍNDICE) NODO HERMANO DERECHO
1	0	50		
5	1	2	0	2
7	2	30	0	3
9	3	14	0	4
10	4	60	0	
	5	15	1	6
11	6	25	1	
	7	6	2	8
	8	1	2	
13	9	7	3	
	10	16	4	
	11	70	6	12
	12	100	6	
	13	17	9	14
	14	99	9	15
	15	27	9	

3. Muestre el esquema equivalente para la REPRESENTACIÓN DINÁMICA DE HIJO-IZQUIERDO / HERMANO DERECHO

ÁRBOL ORIGINAL:



REPRESENTACIÓN SOLICITADA:



----- FIN DEL DOCUMENTO